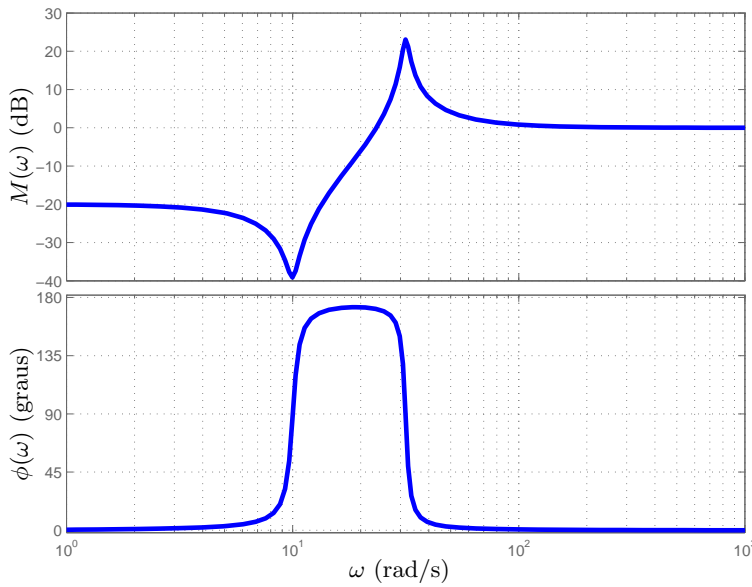


Nome:

RA:

Obs.: Resolva as questões nas folhas de papel almaço e copie o resultado no espaço apropriado. Use três algarismos significativos. Números complexos devem ser representados na forma polar, com ângulo em radianos.

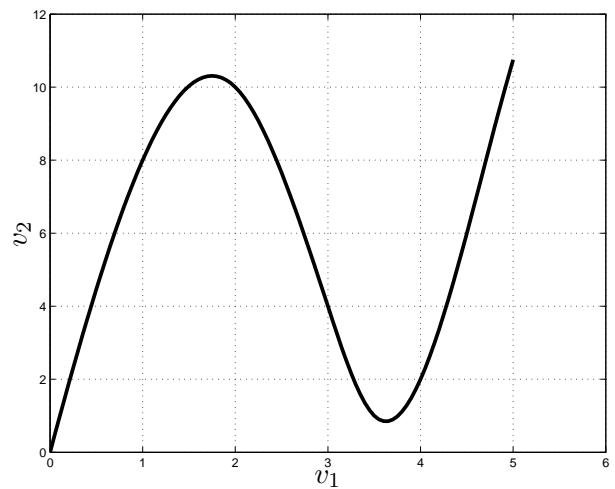
1ª Questão: Determine (com valores aproximados) a saída persistente (em regime) para a entrada $x(t) = \cos(20t)\text{sen}(10t)$ do sistema estável dado pelo diagrama de Bode (módulo em dB e fase em graus) abaixo.



1	
2	
3	
4	
5	
6	
7	
8	
9	
10	

2ª Questão: Determine os pontos de equilíbrio do diodo túnel descrito pelas equações abaixo e pela relação $v_2 = f(v_1)$ ao lado quando $x = 10$.

$$\begin{aligned} \dot{v}_1 &= -f(v_1) + v_2 \\ \dot{v}_2 &= -2v_1 - v_2 + x \end{aligned}$$



3ª Questão: Determine a função de transferência $H(s) = Y(s)/X(s)$ do sistema cuja realização (A, b, c, d) é dada por

$$\begin{aligned} \dot{v} &= Av + bx \\ y &= cv + dx \end{aligned} \quad A = \begin{bmatrix} 0 & 0 & 0 & 0 & -15 \\ 1 & 0 & 0 & 0 & -14 \\ 0 & 1 & 0 & 0 & -13 \\ 0 & 0 & 1 & 0 & -12 \\ 0 & 0 & 0 & 1 & -11 \end{bmatrix}, \quad b = \begin{bmatrix} 1 \\ 2 \\ 3 \\ 4 \\ 5 \end{bmatrix}, \quad c = [0 \ 0 \ 0 \ 0 \ 1], \quad d = [5]$$

4ª Questão: Considere o sistema

$$\dot{v} = \begin{bmatrix} 3 & 2 \\ -2 & 3 \end{bmatrix} v, \quad v(0) = \begin{bmatrix} 2 \\ 1 \end{bmatrix}$$

- a) Determine $V(s) = \mathcal{L}\{v(t)\}$, isto é, a transformada de Laplace unilateral de $v(t)$
 b) Usando a transformada inversa de Laplace, determine $v(t)$

5ª Questão: Determine uma matriz $A \in \mathbb{R}^{3 \times 3}$ tal que $A^{-1} = A^2 + 3A + 4A^0$.

6ª Questão: Determine uma transformação Q que diagonaliza a matriz A , isto é, tal que $Q^{-1}AQ$ seja diagonal

$$A = \begin{bmatrix} 2 & 0 \\ 1 & 1 \end{bmatrix}$$



7ª Questão: Determine a solução $v(t)$ para o sistema

$$\dot{v} = Av, \quad v(0) = \begin{bmatrix} 1 \\ 1 \end{bmatrix}, \quad Q^{-1}AQ = \begin{bmatrix} -2 & -2 \\ 2 & -2 \end{bmatrix}, \quad Q = \begin{bmatrix} 1 & 2 \\ 1 & 3 \end{bmatrix}$$

8ª Questão: a) Determine a forma de Jordan \hat{A} da matriz

$$A = \begin{bmatrix} 1 & 0 & 0 \\ 1 & 2 & 1 \\ -1 & -1 & 0 \end{bmatrix}, \quad \Delta(\lambda) = (\lambda - 1)^3$$


b) Determine uma matriz Q que transforma a matriz A na forma de Jordan $\hat{A} = Q^{-1}AQ$



9ª Questão: Determine um sistema linear autônomo, com matrizes reais, na forma de equação de estados dado por

$$\dot{v} = \bar{A}v, \quad v(0) = \bar{v}_0, \quad y = \bar{c}v$$

que produza como saída a função $y(t) = 10t + 20t \exp(5t) \cos(3t)$.



10ª Questão: Determine a resposta $y_u(t)$ ao degrau (isto é, $x(t) = u(t)$ e condições iniciais nulas) do sistema linear invariante no tempo dado por

$$\dot{v} = \begin{bmatrix} -7 & -10 \\ 1 & 0 \end{bmatrix} v + \begin{bmatrix} 1 \\ 0 \end{bmatrix} x$$
$$y = \begin{bmatrix} -23 & -70 \end{bmatrix} v + \begin{bmatrix} 12 \end{bmatrix} x$$



Laplace (funções causais): $\mathcal{L}\left\{\frac{t^m}{m!} \exp(-at)u(t)\right\} = \frac{1}{(s+a)^{m+1}}$

$$\mathcal{L}\{\cos(\beta t) \exp(-at)u(t)\} = \frac{s+a}{(s+a)^2 + \beta^2}, \quad \mathcal{L}\{\sin(\beta t) \exp(-at)u(t)\} = \frac{\beta}{(s+a)^2 + \beta^2}$$

Variáveis de estado: $\dot{v}(t) = f(v(t), x(t), t)$, $y(t) = g(v(t), x(t), t)$

Pontos de equilíbrio: \bar{v} tais que $f(\bar{v}, \bar{x}) = 0$, $\bar{x} = \text{cte}$.

Sistema linear (em torno dos pontos de equilíbrio):

$$A = \left[\frac{\partial f_i}{\partial v_j} \right] \Big|_{\bar{v}, \bar{x}}, \quad B = \left[\frac{\partial f_i}{\partial x_j} \right] \Big|_{\bar{v}, \bar{x}}, \quad C = \left[\frac{\partial g_i}{\partial v_j} \right] \Big|_{\bar{v}, \bar{x}}, \quad D = \left[\frac{\partial g_i}{\partial x_j} \right] \Big|_{\bar{v}, \bar{x}}$$

$$\text{Sistemas SISO} \Rightarrow \dot{v} = Av + bx, \quad y = cv + dx, \quad \frac{N(p)}{D(p)} = c(pI - A)^{-1}b + d = b'(pI - A')^{-1}c' + d$$

$$v = T\hat{v} \Rightarrow \hat{A} = T^{-1}AT, \quad \hat{b} = T^{-1}b, \quad \hat{c} = cT, \quad T \text{ não singular}$$

A representação entrada-saída é invariante com transformações de similaridade.

$$y(t) = c \exp(At)v_0 + c(\exp(At)u(t)) * (bx(t)) + dx(t), \quad Y(s) = c(sI - A)^{-1}v_0 + (c(sI - A)^{-1}b + d)X(s)$$

$$\text{Cayley-Hamilton: } \Delta(\lambda) = \det(sI - A) = 0 \Rightarrow \Delta(A) = 0$$

$$f(\lambda) = \sum_{i=0}^{n-1} \rho_i \lambda^i, \quad \Delta(\lambda) = 0 \Rightarrow f(A) = \sum_{i=0}^{n-1} \rho_i A^i, \quad f(\text{diag}(A_1, \dots, A_N)) = \text{diag}(f(A_1), \dots, f(A_N))$$

$$\text{Bloco de Jordan: } J_k(\sigma) = \begin{bmatrix} \sigma & 1 & \dots & 0 \\ 0 & \sigma & \dots & 0 \\ \vdots & \vdots & \ddots & \vdots \\ 0 & 0 & \dots & \sigma \end{bmatrix}, \quad f(J_k(\sigma)) = \begin{bmatrix} f(\lambda) & \dot{f}(\lambda) & \dots & f^{(k-1)}(\lambda)/(k-1)! \\ 0 & f(\lambda) & \dots & f^{(k-2)}(\lambda)/(k-2)! \\ \vdots & \vdots & \ddots & \vdots \\ 0 & 0 & \dots & f(\lambda) \end{bmatrix}_{\lambda=\sigma}$$

Forma de Jordan de $A \in \mathbb{R}^{n \times n}$, $\nu(M_\lambda) = n - \text{rank}(M_\lambda)$ (dimensão do espaço nulo de $M_\lambda = A - \lambda I$):

1) Para cada λ (multiplicidade algébrica n_λ), compute $M_\lambda = (A - \lambda I)$ e a dimensão r_λ do espaço nulo de M_λ . O número de blocos de Jordan associados a λ é igual a r_λ e a soma dos tamanhos de cada um dos blocos é igual a n_λ . Note que r_λ é a multiplicidade geométrica de λ , ou seja, o número de autovetores linearmente independentes associados a λ , $1 \leq r_\lambda \leq n_\lambda$.

2) A dimensão do maior bloco é igual ao menor k tal que $\nu(M_\lambda^k) = n_\lambda$ que é denominado k_λ . Note que $\nu(M_\lambda^k) = n_\lambda$ para $\forall k \geq k_\lambda$.

3) O número de blocos de dimensão i , $1 \leq i \leq k_\lambda$, é determinado a partir da dimensão do espaço nulo das matrizes M_λ^i . Assim, o número de blocos de dimensão i , $1 \leq i \leq k_\lambda$ pode ser determinado por

$$2\nu(M_\lambda^i) - \nu(M_\lambda^{i-1}) - \nu(M_\lambda^{i+1})$$

4) A forma de Jordan \hat{A} é a matriz bloco diagonal composta pelos blocos de Jordan de cada autovalor.

5) A transformação de similaridade Q (não singular) que produz a forma de Jordan pode ser obtida do sistema linear de equações $AQ = Q \text{diag}(J_{k_1}, J_{k_2}, \dots, J_{k_r})$

$$\dot{v} = Av + bx, \quad y = cv + dx, \quad v(0), \quad \text{para } x \text{ solução de } x = \bar{c}\bar{v}, \quad \dot{\bar{v}} = \bar{A}\bar{v}, \quad \bar{v}(0)$$

$$\Rightarrow \text{Sistema autônomo aumentado: } \begin{bmatrix} \dot{v} \\ \dot{\bar{v}} \end{bmatrix} = \begin{bmatrix} A & b\bar{c} \\ 0 & \bar{A} \end{bmatrix} \begin{bmatrix} v \\ \bar{v} \end{bmatrix}, \quad \begin{bmatrix} v(0) \\ \bar{v}(0) \end{bmatrix} = \begin{bmatrix} v_0 \\ \bar{v}_0 \end{bmatrix}, \quad y = \begin{bmatrix} c & d\bar{c} \end{bmatrix} \begin{bmatrix} v \\ \bar{v} \end{bmatrix}$$